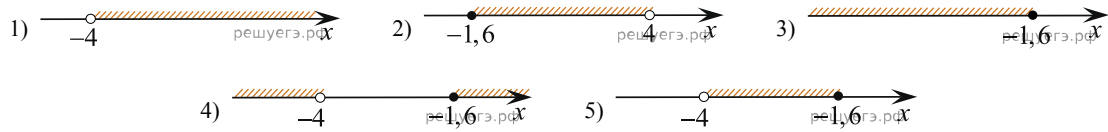
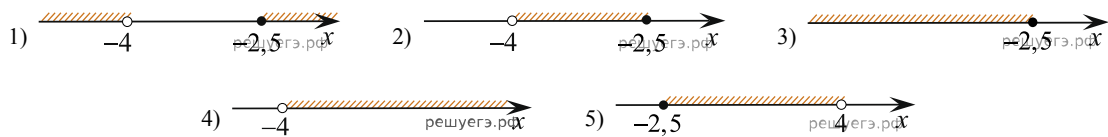


1. Укажите номер рисунка, на котором показано множество решений системы неравенств

$$\begin{cases} x \leq -1,6, \\ 1 - 2x < 9. \end{cases}$$


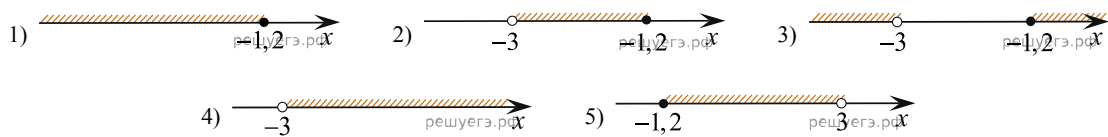
1) 1 2) 2 3) 3 4) 4 5) 5

2. Укажите номер рисунка, на котором показано множество решений системы неравенств

$$\begin{cases} x \leq -2,5, \\ 2 - 5x < 22. \end{cases}$$


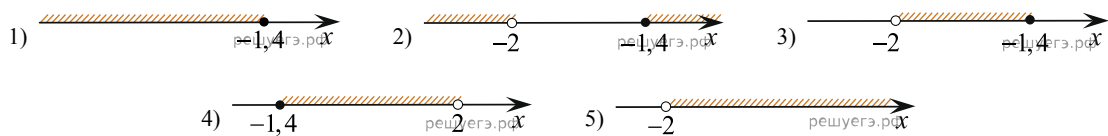
1) 1 2) 2 3) 3 4) 4 5) 5

3. Укажите номер рисунка, на котором показано множество решений системы неравенств

$$\begin{cases} x \leq -1,2, \\ 1 - 2x < 7. \end{cases}$$


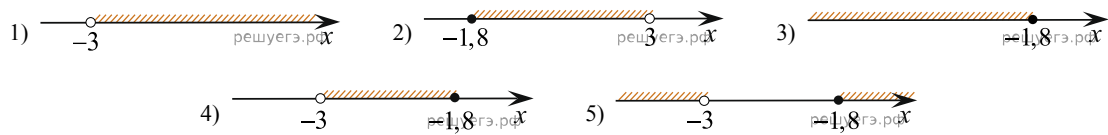
1) 1 2) 2 3) 3 4) 4 5) 5

4. Укажите номер рисунка, на котором показано множество решений системы неравенств

$$\begin{cases} x \leq -1,4, \\ 1 - 2x < 5. \end{cases}$$


1) 1 2) 2 3) 3 4) 4 5) 5

5. Укажите номер рисунка, на котором показано множество решений системы неравенств

$$\begin{cases} x \leq -1,8, \\ 1 - 2x < 7. \end{cases}$$


1) 1 2) 2 3) 3 4) 4 5) 5

